

كلية التربية الأساسية  
قسم الرياضيات  
المرحلة الثانية

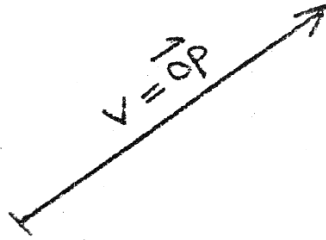
الجبر الخطي

(المحاضرة الأولى)

## المتجهات vectors

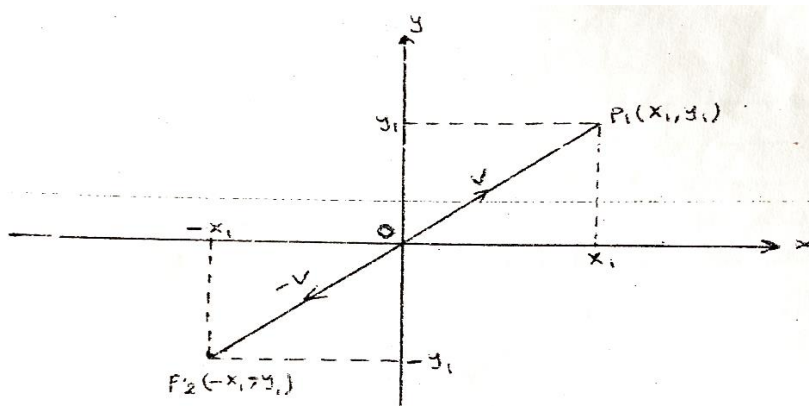
### المتجهات و المقادير العددية:

توصف الكثير من الكميات بخاصة في الفيزياء بدون اتجاه كما ان كميات أخرى يتطلب الامر تعيين اتجاه لها. اذا تسمى الكميات التي لها مقدار عددي وليس لها اتجاه بالكميات العددية وتكون غير اتجاهية مثل الطول الزمن و المساحة. اما الكميات التي لها مقدار عددي واتجاه فتسمى بالمتجهات مثل القوة والسرعة والتعجيل اذا ان لكل منها اتجاه وسنرمز لها بالحروف  $u, w, v, \dots$  يمثل المتجه عادة بسهم مثل  $v = \overrightarrow{op}$  يحدد الطول و الاتجاه للمتجه  $v$  اذا ان النقطة  $O$  تمثل البداية له والنقطة  $p$  تمثل نهايته و يكون اتجاهه من  $o$  الى  $p$  و كما في الشكل التالي:



### التمثيل الهندسي للمتجهات في $R^2$ و $R^3$ :

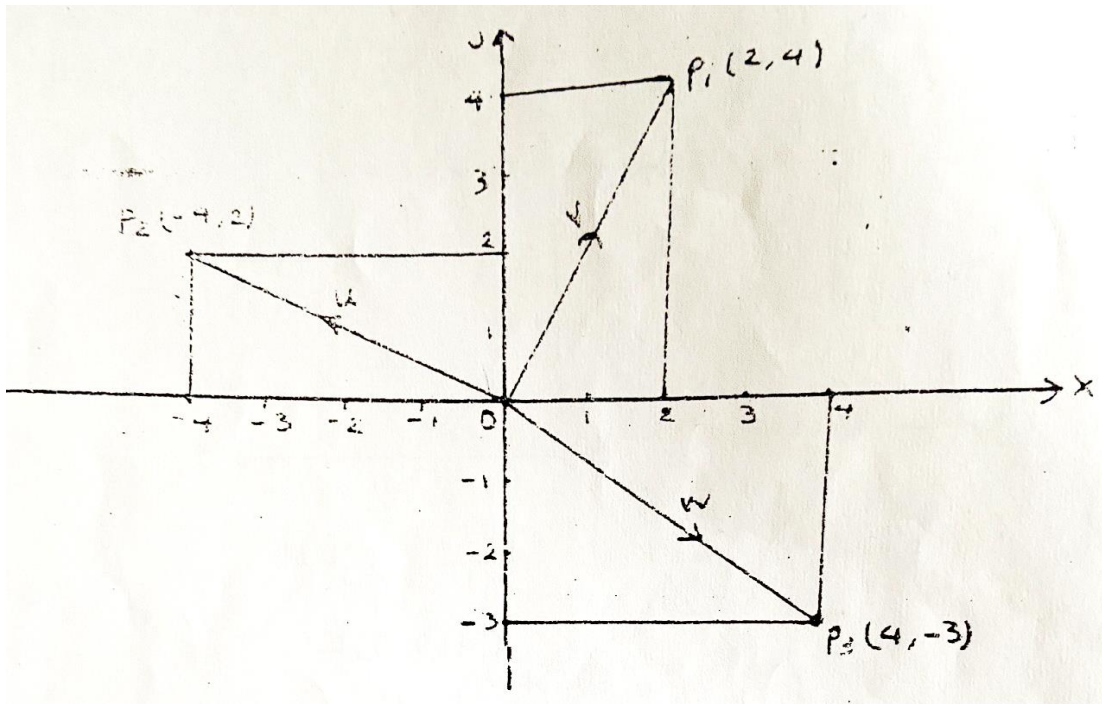
يمكن تمثيل أي متجه هندسيا كقطعة مستقيم ذات اتجاه في المستوى  $xy$  كما في الشكل التالي:



اذ ان كل نقطة في المستوى  $xy$  هي عبارة عن زوج مرتب من الاعداد الحقيقية  $(x_1, y_1)$  وان  $x_1$  يمثل قطعة المستقيم  $\overrightarrow{ox_1}$  على المحور  $x$  الذي نقطة البداية له  $o$  ونهايته  $x_1$  وهو مسقط النقطة  $p_1(x_1, y_1)$  على المحور  $x$ . وكذلك  $y_1$  تمثل قطعة المستقيم المتجه  $\overrightarrow{oy_1}$  على محور  $y$  الذي نقطة البداية له  $o$  ونهايته  $y_1$  وهو مسقط النقطة  $p_1(x_1, y_1)$  على محور  $y$  وعليه يكون مسقط المتجه  $y = \overrightarrow{op_1}$  على محور  $x$  هو قطعة المستقيم المتجه  $\overrightarrow{ox_1}$  ومسقطه على  $y$  هو قطعة المستقيم  $\overrightarrow{oy_1}$  وهكذا يمكن تمثيل أي نقطة في المستوى  $xy$  كمتجه.

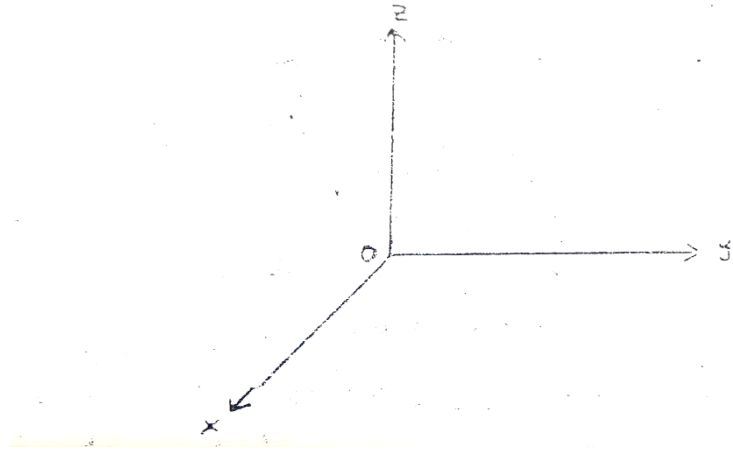
ويكون المتجه  $v$  الذي بدايته  $o$  ونهايته  $p_1$  بالاتجاه الموجب اما سالب  $v$  هو  $-v$  يمكن تمثيلة بالأسلوب نفسه و تكون بدايته  $o$  ونهايته  $p_2$  ولكن بالاتجاه السالب. سنرمز للمستوى  $xy$  بالرمز  $R^2$  ويسمى الفضاء الثنائي في  $R^2$  يقرن كل نقطة (زوج مرتب) بقطعة مستقيم متجه و بالعكس. أي انه لأي نقطة  $p_1(x_1, y_1)$  يتحدد متجه وحيد  $v$  في الفضاء  $R^2$  وتسمى احداثيات  $R^2$   $v = \overrightarrow{op_1}(x_1, y_1)$  بمركبتي المتجه  $v$  وتكتب  $v = (x_1, y_1)$ .

مثال 1:

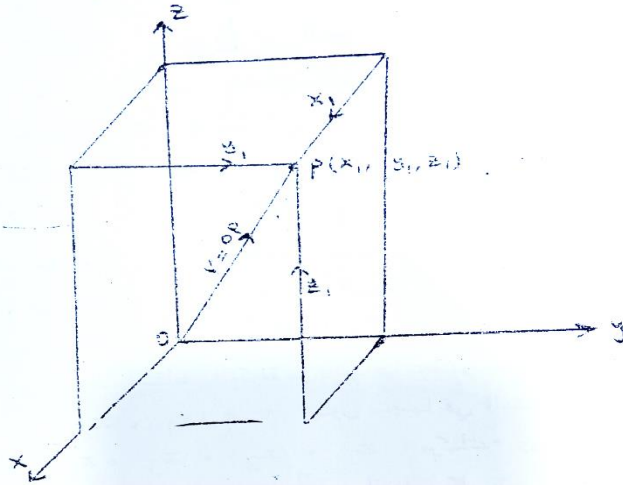


المتجه  $v$  هنا يمثل قطعة المستقيم المتجه  $\overline{op_1} = (2,4)$  و  $u$  قطعة المستقيم المتجه  $\overline{op_2} = (-4,2)$  و  $w$  قطعة المستقيم المتجه  $\overline{op_3} = (4, -3)$ .

وبالطريقة نفسها يمكن تمثيل أي متجه في  $xyz$  الذي يتكون من ثلاثة مستويات متعامدة مع بعضها البعض هي  $xy, yz, xz$  ويكون تقاطع هذه المستويات في نقطة الأصل  $(0,0,0)$  كما في الشكل التالي:



وتحدد لكل نقطة  $p(x_1, y_1, z_1)$  في هذا الفضاء بقطعة المستقيم المتجه  $v = \overline{op}$  بدايته نقطة الأصل  $(O)$  ونهايته النقطة  $p$  فتكون مساقط النقطة  $p$  على المحاور المتعامدة الثلاثة  $x, y, z$  هي  $(x_1, 0, 0), (0, y_1, 0), (0, 0, z_1)$  على الترتيب لذا فإن بعد النقطة  $p$  عن محور  $x$  هي  $x_1$  في المستوى  $yz$  و على بعد  $y_1$  في المستوى  $xz$  و على بعد  $z_1$  في المستوى  $xy$  كما في الشكل التالي:



وبالأسلوب نفسه يمكن تمثيل سالب  $v$  ونرمز له بالرمز  $-v$  بقطعة مستقيم متجه  $\overrightarrow{OQ}$  عندما تكون احداثيات النقطة  $Q$  هي  $(-x_1, -y_1, -z_1)$  ويكون للمتجه  $-v$  نفس طول المتجه  $v$  ولكن بالاتجاه المعاكس سنرمز للفضاء  $xyz$  بالرمز  $R^3$  ويسمى الفضاء الثلاثي. وتسمى احداثيات النقطة  $v = \overrightarrow{op}(x_1, y_1, z_1)$  بمركبات المتجه  $v$  وتكتب  $v = (x_1, y_1, z_1)$  ويكون التمثيل الهندسي للمتجهات في  $R^3$  يقرب كل ثلاثي مرتب بقطعة مستقيم متجه في الفضاء (أي ان أي نقطة في  $R^3$  يتحدد متجه  $v$  في الفضاء  $xyz$ ) ويكتب  $v = (x_1, y_1, z_1)$  حيث  $x_1, y_1, z_1$  مركبات المتجه  $v$ .

- في بعض التطبيقات لا تكون نقطة البداية للمتجه عند نقطة الأصل فمثلا اذا كان المتجه  $v = \overrightarrow{p_1p_2}$  نقطة البداية له هي  $p_1 = (x_1, y_1, z_1)$  ونهايته النقطة  $p_2 = (x_2, y_2, z_2)$  فإن  $v = \overrightarrow{p_1p_2} = (x_2 - x_1, y_2 - y_1, z_2 - z_1)$  أي ان مركبات  $v$  ناتجة من طرح احداثيات نقطة البداية من احداثيات نقطة النهاية.

مثال: جد احداثيات المتجه  $v = \overrightarrow{p_1p_2}$  في الفضاء الثلاثي الذي بدايته  $p_1 = (2, -1, 4)$  ونهايته  $p_2 = (7, 5, -8)$ .

الحل :

$$\begin{aligned} v = \overrightarrow{p_1p_2} &= (x_2 - x_1, y_2 - y_1, z_2 - z_1) \\ &= (7 - 2, 5 - (-1), -8 - 4) \\ &= (5, 6, -12) \end{aligned}$$

### خواص المتجهات و العمليات الجبرية:

تساوي المتجهات في  $R^2, R^3$ : اذا كانت بداية المتجهين  $v, w$  نقطة الأصل في الفضاء الثنائي او الثلاثي فإن  $v=w$  اذا وفقط اذا تساوت مركباتهما المتناضرة أي اذا انطبقت نقطتي النهاية لهما. فإذا كان  $v = (x_1, y_1), w = (x_2, y_2)$  فإن  $v=w$  اذا وفقط اذا  $x_1 = x_2, y_1 = y_2$  كذلك اذا كانت  $v = (x_1, y_1, z_1), w = (x_2, y_2, z_2)$  فإن  $v=w$  اذا وفقط اذا  $x_1 = x_2, y_1 = y_2, z_1 = z_2$ .

متجهين في الفضاء الثلاثي فإن  $v = w$  اذا فقط اذا تساوت مركباتهما  
المتناظرة  $x_1 = x_2, y_1 = y_2, z_1 = z_2$

مثال: اذا كان  $v = (2, -1)$  و  $w = (2, 4)$  فإن  $v \neq w$  لعدم تساوي مركباتهما المتناظرة ولكن  
 $v = (1, 2, -3)$  و  $w = (1, 2, -3)$  فإن  $v = w$  لتساوي مركباتهما المتناظرة.

**جمع المتجهات في  $R^2, R^3$  :** ليكن كل من  $v = (x_1, y_1)$  و  $w = (x_2, y_2)$  متجهاً في  $R^2$  عندئذ فإن  
مجموع المتجهين  $v, w$  يكتب  $v + w$  ويعرف بما يأتي  $v + w = (x_1 + x_2, y_1 + y_2)$

كذلك اذا كان  $v = (x_1, y_1, z_1)$  و  $w = (x_2, y_2, z_2)$  أي متجهين في الفضاء  $R^3$  فإن  $v + w$  يعرف بما  
يأتي:  $v + w = (x_1 + x_2, y_1 + y_2, z_1 + z_2)$

**الضرب بعدد للمتجهات في  $R^2, R^3$  :** اذا كان  $v = (x_1, y_1)$  متجهاً في  $R^2$  وكان  $k$  عدداً حقيقياً فإن الضرب  
 $k \cdot v$  يعرف كما يأتي :

$$k \cdot v = k(x_1, y_1) = (kx_1, ky_1)$$

كذلك اذا كان  $v = (x_1, y_1, z_1)$  متجهاً في  $R^3$  فإن  $k \cdot v = k(x_1, y_1, z_1) = (kx_1, ky_1, kz_1)$

وعليه يمكن ان نعرف سالب  $v$   $(-v)$  بالشكل  $v = (-1)v$

$$v + (-1)v = 0$$

كذلك يعرف الفرق بين المتجهين  $v$  و  $w$  بالطريقة الآتية:  $v - w = v + (-1)w$

متجهين  $w = (7,6)$  ،  $v = (1,-2)$  اذا كان  
في  $R^2$  جد  $v - w$  ،  $5v$  ،  $v + w$

الحل :

$$v + w = (1,-2) + (7,6) = (1+7, -2+6) = (8,4)$$

$$5v = 5(1,-2) = (5,-10)$$

$$v - w = (1,-2) - (7,6) = (1-7, (-2)-6) = (-6,-8)$$


المثال 6 :

متجهين في  $R^3$  وكان  $k_1 = 3$  ،  $k_2 = -2$  اذا كان  
جد  $k_1v + k_2w$

الحل :

$$k_1v = 3(2,-1,3) = (6,-3,9)$$

$$k_2w = -2(1,5,4) = (-2,-10,-8)$$



لاحظنا عند دراستنا للمصفوفات في الفصل الثاني انه يمكن تعريف المتجه على انه مصفوفة مكونة من صف واحد او عمود واحد وبهذا يمكن ان تفتقر كل مصفوفة في هذا النوع بقطعة مستقيم متجه وتكون مركباتها عبارة عن صف واحد او عمود واحد . لذا فان المصفوفة  $v$  من السعة  $2 \times 1$  تكتب بالشكل :

$$v = \begin{bmatrix} x_1 \\ y_1 \end{bmatrix}$$

كمتجه عمود في  $R^2$  وتكون  $x_1$  و  $y_1$  مركباته كذلك فان المصفوفة

$$v = \begin{bmatrix} x_1 \\ y_1 \\ z_1 \end{bmatrix}$$

من السعة  $3 \times 1$  كمتجه عمود في  $R^3$  وتكون  $x_1$  و  $y_1$  و  $z_1$  مركباته . ويمكن تعريف تساوي المتجهات بالشكل الاتي :

$$w = \begin{bmatrix} x_2 \\ y_2 \end{bmatrix}$$

$$, v = \begin{bmatrix} x_1 \\ y_1 \end{bmatrix}$$

اذا كان

متجهين في  $R^2$  فان  $v = w$  اذا واذا فقط  $x_1 = x_2$  و  $y_1 = y_2$



كذلك اذا كان  $y_1 = y_2$

متجهين  $R^3$   $w = \begin{bmatrix} x_2 \\ y_2 \\ z_2 \end{bmatrix}$  ,  $v = \begin{bmatrix} x_1 \\ y_1 \\ z_1 \end{bmatrix}$

فان  $v = w$  اذا واذ فقط  $x_1 = x_2$  و  $y_1 = y_2$  و  $z_1 = z_2$

اي اذا تساوت مركباتها المتناظرة .

المثال 7 :

ليكن  $w = \begin{bmatrix} x_1 - x_2 \\ x_1 + x_2 \\ x_3 - 1 \end{bmatrix}$  ,  $v = \begin{bmatrix} 4 \\ 2 \\ 3 \end{bmatrix}$

متجهين في  $R^3$  اذا كان  $v = w$  فان

$$\begin{bmatrix} x_1 - x_2 \\ x_1 + x_2 \\ x_3 - 1 \end{bmatrix} = \begin{bmatrix} 4 \\ 2 \\ 3 \end{bmatrix}$$

ونحصل على المعادلات الآتية :

$$\begin{aligned} x_1 - x_2 &= 4 \\ x_1 + x_2 &= 2 \\ x_3 - 1 &= 3 \end{aligned}$$

• وحل هذه المعادلات نجد أن  $x_2 = -1$  ،  $x_1 = 3$  ،  $x_3 = 4$  وبالتعويض نحصل على أن  $v = w$  لتساوي مركباتهما المتناظرة .

وكذلك تكون عمليتا جمع المتجهات والضرب بعدد لها طبع المصفوفات المكونة عن عمود واحد أو صف واحد إذ يمكن فزئ كل متجه .

$$v = \begin{bmatrix} x_1 \\ y_1 \\ z_1 \end{bmatrix} \text{ أو } v = \begin{bmatrix} x_1 \\ y_1 \end{bmatrix} \text{ في } R^3 \text{ أو } R^2$$

على التوالي . فإذا كان  $v$  و  $w$  متجهين في  $R^2$  . فإن الجمع لهما يكون

$$v + w = \begin{bmatrix} x_1 \\ y_1 \end{bmatrix} + \begin{bmatrix} x_2 \\ y_2 \end{bmatrix} = \begin{bmatrix} x_1 + x_2 \\ y_1 + y_2 \end{bmatrix}$$

أي جمع مركباتهما المتناظرة كذلك إذا كان  $k$  أي عدد حقيقي فإن

$$kv = k \begin{bmatrix} x_1 \\ y_1 \end{bmatrix} = \begin{bmatrix} kx_1 \\ ky_1 \end{bmatrix}$$

وتطريقة متشابهة للمتجهات في  $\mathbb{R}^3$  . فاذا كانت

$$\mathbb{R}^3 \text{ متجهات في } w = \begin{bmatrix} x_2 \\ y_2 \\ z_2 \end{bmatrix} \quad \text{و} \quad v = \begin{bmatrix} x_1 \\ y_1 \\ z_1 \end{bmatrix}$$

فإن جمع  $v$  و  $w$  يكون كمايلي :

$$v + w = \begin{bmatrix} x_1 \\ y_1 \\ z_1 \end{bmatrix} + \begin{bmatrix} x_2 \\ y_2 \\ z_2 \end{bmatrix} = \begin{bmatrix} x_1 + x_2 \\ y_1 + y_2 \\ z_1 + z_2 \end{bmatrix}$$

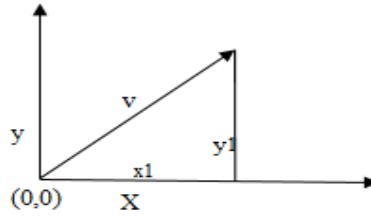
والضرب بعدد يكون كمايلي :

$$kv = k \begin{bmatrix} x_1 \\ y_1 \\ z_1 \end{bmatrix} = \begin{bmatrix} kx_1 \\ ky_1 \\ kz_1 \end{bmatrix}$$

النظريات الاتية تحقق خواص الجمع للمتجهات والضرب

بعدد لها .

طول المتجه في  $\mathbf{R}^2, \mathbf{R}^3$  : ليكن المتجه  $v = (x_1, y_1)$  في الفضاء الثنائي  $\mathbf{R}^2$  كما موضح في الشكل التالي:



عندئذ طول المتجه  $v$  يرمز له بالرمز  $\|v\|$  ويعرف كالتالي  $\|v\| = \sqrt{x_1^2 + y_1^2}$

اما اذا كان المتجه في الفضاء الثلاثي  $\mathbf{R}^3$  فان  $\|v\| = \sqrt{x_1^2 + y_1^2 + z_1^2}$

مثال: جد طول المتجه  $v = (-3, 2, 1)$

الحل:

$$\|v\| = \sqrt{(-3)^2 + (2)^2 + (1)^2} = \sqrt{14}$$

ملاحظة: لحساب المسافة بين نقطتين يتم استخدام القانون التالي

$$d = \|\overline{p_1 p_2}\| = \sqrt{(x_2 - x_1)^2 + (y_2 - y_1)^2} \quad \mathbf{R}^2$$

$$d = \|\overline{p_1 p_2}\| = \sqrt{(x_2 - x_1)^2 + (y_2 - y_1)^2 + (z_2 - z_1)^2} \quad \mathbf{R}^3$$

مثال: جد المسافة بين النقطتين  $p_1(3,2), p_2(-1, 5)$

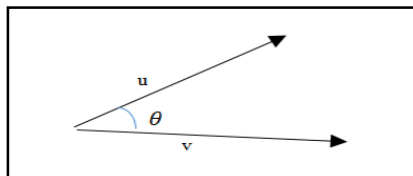
الحل:

$$d = \|\overline{p_1 p_2}\| = \sqrt{(-1 - 3)^2 + (5 - 2)^2} = \sqrt{16 + 9} = 5 \text{ unit}$$

ضرب المتجهات:

الضرب النقطي dot product:

تعريف: اذا كان  $u, v$  متجهين في الفضاء الثنائي او الثلاثي و كانت  $\theta$  هي الزاوية المحصورة بينهما فان الضرب العددي ( النقطي ) يعرف كالتالي:



$$u \cdot v = \|u\| \cdot \|v\| \cos\theta$$

مثال: اذا كان  $u=(0, 0, 1)$ ,  $v= (0, 2, 2)$  و الزاوية  $\theta$  المحصورة بينهما تساوي  $45^\circ$  جد  $u \cdot v$

الحل:

$$u \cdot v = \|u\| \cdot \|v\| \cos\theta$$

$$\|u\| = \sqrt{0 + 0 + 1} = 1$$

$$\|v\| = \sqrt{0 + 4 + 4} = \sqrt{8} = 2\sqrt{2}$$

$$u \cdot v = 1 \cdot 2\sqrt{2} \cdot \cos 45$$

$$= 1 \cdot 2\sqrt{2} \cdot \frac{1}{\sqrt{2}} = 2$$

\* يمكن إيجاد الضرب النقطي لمتجهان بطريقة أخرى باستخدام مركبات المتجهين فاذا كان

$$u \cdot v = (u_1 \cdot v_1 + u_2 \cdot v_2 + u_3 \cdot v_3) \text{ فأن } v = (v_1, v_2, v_3) \text{ و } u = (u_1, u_2, u_3)$$

مثال: ليكن  $u= (2, -1, 1)$  و  $v= (1,1,2)$  جد  $u \cdot v$  و الزاوية بين  $u$  و  $v$

الحل:

$$u \cdot v = (2 \cdot 1) + (-1 \cdot 1) + (1 \cdot 2) = 2 - 1 + 2 = 3$$

$$\|v\| = \sqrt{x_1^2 + y_1^2 + z_1^2} = \sqrt{1 + 1 + 4} = \sqrt{6}$$

$$\|u\| = \sqrt{x_1^2 + y_1^2 + z_1^2} = \sqrt{4 + 1 + 1} = \sqrt{6}$$

$$u \cdot v = \|u\| \cdot \|v\| \cos\theta$$

$$3 = \sqrt{6} \cdot \sqrt{6} \cos\theta \rightarrow \cos\theta = \frac{1}{2} \quad \therefore \theta = 60^\circ$$

نظرية: ليكن  $u, v$  متجهين غير صفريين في  $R^3$  او  $R^2$  ولتكن  $\theta$  هي الزاوية المحصورة بينهما عندئذ

$$\|v\| = (v \cdot v)^{\frac{1}{2}} \quad -1$$

$$u \cdot v = 0 \leftrightarrow \theta = \frac{\pi}{2} \quad -2$$

البرهان :

-1- لما كانت الزاوية  $\theta$  بين  $u, v$  تساوي صفرا فأن  $u \cdot v = \|u\| \cdot \|v\| \cos\theta = \|v\|^2 \cdot 1$  وعلية

$$\|v\| = (v \cdot v)^{\frac{1}{2}} \text{ نجد ان}$$

-2- اذا كان  $u \neq 0, v \neq 0$  بالفرض فأن  $\cos\theta = 0 \iff \theta = \frac{\pi}{2}$  نستنتج منه ان  $u$  عمودي على  $v$  و بالعكس اذا كانت  $\theta = \frac{\pi}{2}$  فأن  $\cos\theta = 0$  وبالتالي فأن  $u \cdot v = \|u\| \cdot \|v\| \cdot 0 = 0$